

2021 年中华人民共和国普通高等学校

联合招收华侨、港澳地区、台湾省入学考试

地理试卷

一、选择题：本大题共 20 小题，每小题 3 分。在每小题给出的四个选项中，只有一项是符合题目要求的。

门槛人口是指能使某项城市商业服务活动正常开业、并获得基本盈利的最小服务地域范围的人口数。一个企业的服务范围，称为该企业的市场区。图 1 示意某区域内 3 个企业及其各自的市场区。据此完成 1~3 题。

1. 根据门槛人口大小，可以区分同类企业的（ ）

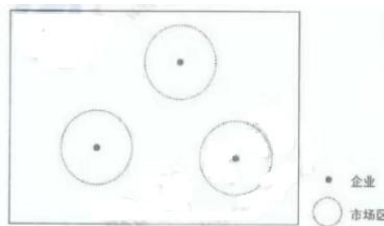


图 1

- A. 数量 B. 盈亏 C. 等级 D. 性质
- 2. 不同行业、同一行业不同规模的企业，其门槛人口是不同的。下列各企业门槛人口最小的是（ ）
- A. 机场 B. 电影院 C. 大型超市 D. 社区零售店
- 3. 若遵循就近服务，无重叠，最大化的原则，同等级企业采用圆形划分，市场区范围的主要缺陷是（ ）
- A. 市场大小有差异 B. 覆盖不完全 C. 覆盖面积小 D. 形状不规则

东营位于黄河入海口，当地渔民利用三角洲滩涂湿地养殖大闸蟹，黄河口大闸蟹因品质佳而入选中国农产品地理标志产品。随着知名度的不断提高，当地企业纷纷研发储存鲜活大闸蟹的新技术，据此完成 4~5 题。

- 4. 当地渔民选择在黄河三角洲滩涂养殖大闸蟹，主要是由于滩涂湿地（ ）
- A. 夏季水温适宜 B. 水量稳定 C. 营养物质丰富 D. 光照充足
- 5. 当地企业研发鲜活大闸蟹储存技术是为了（ ）
- A. 拓展消费市场 B. 降低运输成本 C. 提高产品品质 D. 符合国家标准

印度被称为世界办公室，当你用电话咨询为美国的网购公司业务时，接线员可能正在印度回答你的问题。近年来，印度软件也在发达国家建立基地，招聘员工等，以拓展附加值更高的业务。据此回答六至七题。

- 6. 位于美国的网购公司雇佣印度接线员主要是因为（ ）
- A. 印度软件技术先进 B. 网络设施完善 C. 劳动力价格的 D. 通信市场广阔
- 7. 印度软件园在发达国家建立基地主要是为了利用发达国家的（ ）
- A. 技术 B. 土地 C. 资金 D. 信息

2017年六月国家发改委公布了《关于促进市域(郊)铁路发展的指导意见》，加快发展市域(郊)轨道交通，对缓解城市交通拥堵、改善人居环境、推动新型城市化具有重要作用。表一是某城市轨道交通一个站点分时段客流统计。据此完成8~9题。

| 时段 | | 15:01-15:40 | 15:41-16:00 | 16:21-17:00 |
|-------|----|-------------|-------------|-------------|
| 客流(人) | 进站 | 780 | 1875 | 11650 |
| | 出站 | 12656 | 864 | 707 |

8. 该轨道交通站出现表一所示客流特征的可能原因是()
- A. 学校学生放学 B. 机场客人转乘 C. 工厂工人换班 D. 政府机关下班
9. 与公共汽车、共享单车相比，轨道交通在城市公共交通中的优势是()
- A. 无污染 B. 载客量大 C. 能值直达目的地 D. 能方便随时出行

图二为2019年3月21日小明在英国格林尼治天文台拍摄的照片，图中甲铜条为零度经线标志，据此完成10-11题。



图2

10. 小明拍摄该照片时，镜头朝向
- A. 东 B. 西 C. 南 D. 北
11. 该照片拍摄的时间约为北京时间()
- A. 1时 B. 8时 C. 14时 D. 20时

图3示意某多年平均气温和降水量。读图3，完成12~13题。

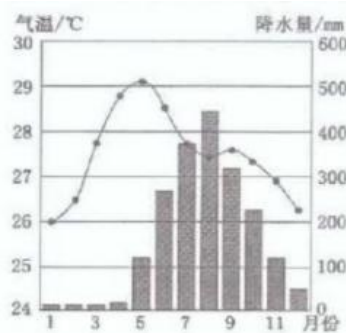
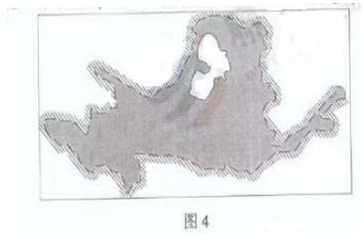


图3

12. 该地的气候类型为()
- A. 热带雨林气候 B. 热带草原气候 C. 热带季风气候 D. 亚热带季风气候
13. 该地最高气温没有出现在7月或8月，其主要影响因素可能是()
- A. 日照时数 B. 海拔高度 C. 沿岸洋流 D. 海陆位置

某大河长度居世界第5位，图4是该河的流域轮廓图，据此完成14~15题。



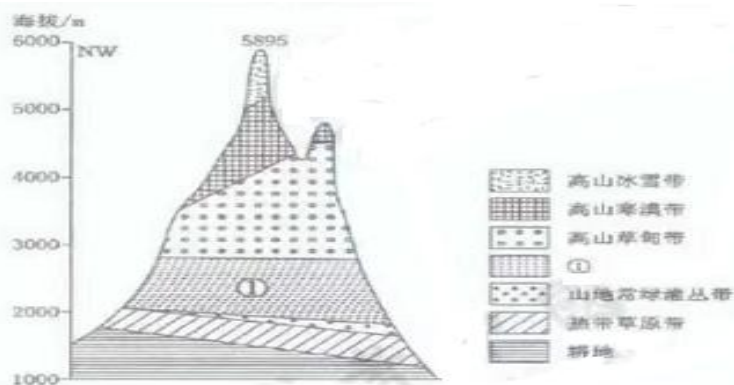
14. 图示流域是 ()
 A. 亚马孙河 B. 恒河 C. 刚果河 D. 黄河
15. 导致该河下游河段流域面积狭小的原因是 ()
 ① 流经峡谷地区 ② 河床高 ③ 支流少 ④ 瀑布多
 A. ①② B. ②③ C. ③④ D. ①④

目前，科学家只能预测航天飞船返回舱着陆点的大致范围，需要通过地面搜寻找回舱。图5为某航天飞船返回舱着陆后场景。据此完成16~17题。



16. 干扰飞船返回舱在预定地点着陆的自然因素可能是 ()
 A. 太阳活动 B. 地表起伏 C. 植被状况 D. 大气运动
17. 以下地形区中，适宜作为我国飞船返回舱着陆场地的是 ()
 A. 内蒙古高原 B. 华北平原 C. 四川盆地 D. 东南丘陵

图6是某山地垂直带谱。读图6，完成18~20题。



18. ①带应为 ()
 A. 热带雨林带 B. 高山冻原带 C. 山地草原带 D. 山地常绿阔叶林带
19. 造成高山寒漠带界限的高程西北低于东南的主要原因是，在相同高度其西北坡 ()
 A. 气温较低 B. 水分条件较差 C. 坡度较缓 D. 太阳辐射较强
20. 该山地位于 ()
 A. 东南亚 B. 非洲 C. 大洋洲 D. 欧洲西部

二、简答题：本大题共 5 小题，每小题 8 分。

21. 图 7 为海陆间循环示意图。写出图中序号①~④所代表的水循环各环节的名称。

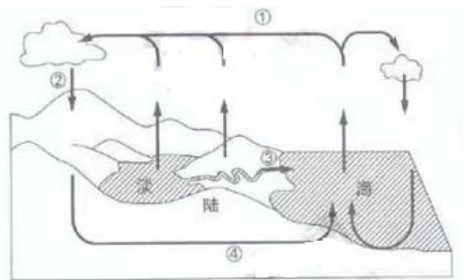


图 7

① _____ ② _____ ③ _____ ④ _____

22. 说明我国长江中下游地区退田还湖的环境意义。

23. 简要说明遥感技术在城市中的主要应用领域。

24. 读图 8，说出苏里南与巴西划分国界的依据，并说明判断理由。

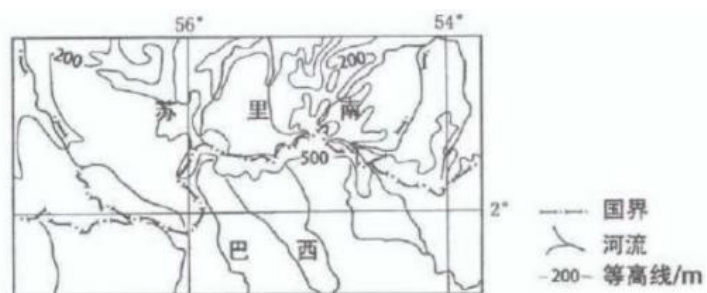
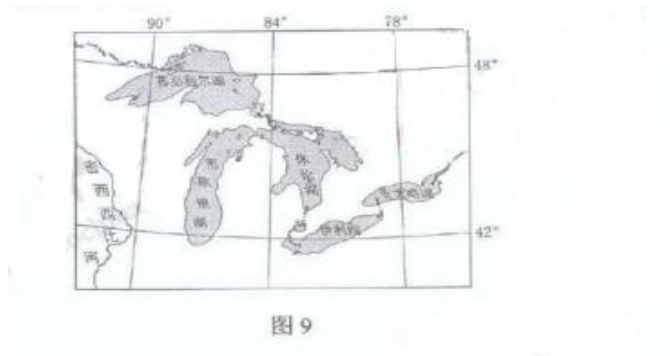


图 8

25.北美五大湖区（图9）冬季暴风雪多发，东岸、南岸积雪厚度大。分析五大湖东岸和南岸的积雪厚度比西岸、北岸大的主要原因。

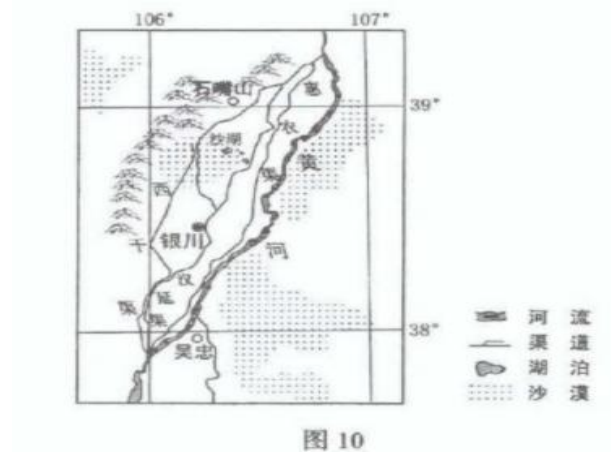


三、综合分析题：本题共 50 分。

26.阅读图文材料，完成下列要求。（22 分）

位于宁夏回族自治区银川平原的沙湖生态旅游区（位置见图 10）是国家旅游局首批评定的 5A 级旅游景区，由 15 平方千米的沙漠和 20 平方千米的湖水组成。湖中生长着成片的芦苇，疏落有致，壮观美丽。沙湖水质一度下降为劣 5 类，经过治理，目前已明显改善。

- (1) 指出沙湖的补给水原。（6 分）
- (2) 分析导致沙湖水质差的主要原因。（8 分）
- (3) 提出改善沙湖水质的可行措施。（8 分）



27. 阅读图文材料，完成下列要求。(28分)

2018年冬，美国阿拉斯加州安克雷奇(位置见图11)发生7.2级地震。当地在地震发生后立即向主要农业部门发布灾害预警，开展救援。尽管安克雷奇地震频繁，但却是早期从事海洋捕捞的欧洲移民首选的定居点。



- (1) 简述安克雷奇地震频发的原因。(4分)

- (2) 说明当地及时向农业部门发布灾害预警的合理性。(6分)

- (3) 指出本次地震救援可能遇到的不利自然条件。(6分)

- (4) 分析早期欧洲移民选择安克雷奇定居的自然原因。(12分)